


ସମୟର ମାପ

କିଛି ଦିନ ପରେ ବିଦ୍ୟାଳୟର ବାର୍ଷିକ ଉତ୍ସବ ହେବ । ଶିକ୍ଷକ ଓ ପିଲାମାନେ ବିଭିନ୍ନ କାର୍ଯ୍ୟରେ ବ୍ୟସ୍ତ । ବାର୍ଷିକ କ୍ରୀଡ଼ା ପ୍ରତିଯୋଗିତା ଅନୁଷ୍ଠିତ ହେଉଛି । ପିଲାମାନେ ଗୀତ, ନାଟ, ରଚନା, ଡ୍ରାଫ୍ଟ, ଗଣିତ କୁଇଜ୍ ଇତ୍ୟାଦି ପ୍ରତିଯୋଗିତାରେ ଭାଗ ନେଉଛନ୍ତି । କୁଇଜ୍ ପ୍ରତିଯୋଗିତାରେ ପଢ଼ରା ଯାଇଥିବା ପ୍ରଶ୍ନରୁ କିଛି ପ୍ରଶ୍ନ ତଳେ ଦିଆଯାଇଛି । ତୁମେ ପ୍ରଶ୍ନଗୁଡ଼ିକୁ ପଢ଼ ଓ ଉତ୍ତରକୁ ଖାଲି ସ୍ଥାନରେ ଲେଖ ।



୧. ଅପରାହ୍ଣ ମାତ୍ର ୨୦ ମିନିଟ୍‌କୁ ଟ୍ରେନ୍ ସମୟରେ ପ୍ରକାଶ କରି ଲେଖ । _____
୨. ୨ ଘଣ୍ଟା ୨୫ ମିନିଟ୍ = _____ ମିନିଟ୍
୩. ୯pm ରୁ ୯am ମଧ୍ୟରେ ସମୟର ଅବଧି କେତେ ? _____
୪.  ଘଣ୍ଟାରେ କେତେ ସମୟ ହୋଇଛି ? _____
୫. ୨୦୦୪ ମସିହାର ଫେବୃଆରୀ ମାସ ଶେଷ ଦିନ କେତେ ତାରିଖରେ ପଡ଼ିଥିଲା ? _____
୬. ୨୦୧୦ ମସିହା ଅଗଷ୍ଟ ୧୮ ତାରିଖରୁ ୩ ଦିନ କମ୍ପୂ ସଂକ୍ଷେପରେ ଲେଖ । _____
୭. ୨୦୦୮ ମସିହାର ଦିନ ସଂଖ୍ୟା କେତେ ? _____
୮. ଅଧିବର୍ଷରେ ବର୍ଷିକ କେତେ ଦିନ ହୁଏ ? _____
୯. ଗୋଟିଏ ମାସରେ କେତୋଟି ପୂର୍ଣ୍ଣ ସପ୍ତାହ ଥାଏ ? _____
୧୦. ଏକକ ପରାକ୍ଷଣ ୨୭.୦୧.୨୦୦୮ରିଖରେ ଆରମ୍ଭ ହୋଇ ତା. ୦୧.୦୨.୨୦୦୮ରିଖରେ ହେଲା । ମୋଟ କେତେ ଦିନ ପରାକ୍ଷଣ ହେଲା ? _____



ଏହିପରି ପ୍ରଶ୍ନର ଉତ୍ତର କରିବା ତୁମେ ପୂର୍ବ ଶ୍ରେଣୀରେ ପଢ଼ିଥିଲ । ତଳେ ଦିଆଯାଇଥିବା ଲେଖା ମଧ୍ୟରେ ଏହି ପ୍ରଶ୍ନଗୁଡ଼ିକର ଅଛି । ଲେଖାଟିକୁ ପଢ଼ ଓ କେତୋଟି ପ୍ରଶ୍ନର ଉତ୍ତର ଠିକ୍ ହେଲା ଲେଖ ।

ବିଭିନ୍ନ କାର୍ଯ୍ୟାଳୟ, କଳକାରଖାନା ଓ ଆନ୍ତର୍ଜାତିକ ସ୍ତରରେ ତାରିଖ ଗଣନା କରିବା ଲାଗି ରାତି ୧୨ଟା ଠାରୁ ଆରମ୍ଭ ପରବର୍ତ୍ତୀ ରାତି ୧୨ଟା ପୂର୍ବ ପର୍ଯ୍ୟନ୍ତ ସମୟ ଅବଧିକୁ ଗୋଟିଏ ଦିବସ ରୂପେ ଗ୍ରହଣ କରାଯାଏ ।





- ରାତି ୧୨ଟା ପରଠାରୁ ଦିନ ୧୨ଟା ପୂର୍ବ ପର୍ଯ୍ୟନ୍ତ ସମୟକୁ ପୂର୍ବାହ୍ନ ଓ ଦିନ ୧୨ଟା ପରଠାରୁ ରାତି ୧୨ଟା ପୂର୍ବ ପର୍ଯ୍ୟନ୍ତ ସମୟକୁ ଅପରାହ୍ନ କୁହାଯାଏ ।
- ଦିନ ୧୨ଟା ସମୟକୁ ମଧ୍ୟାହ୍ନ ୧୨ଟା ଓ ରାତି ୧୨ଟା ସମୟକୁ ମଧ୍ୟରାତ୍ରି ୧୨ଟା କୁହାଯାଏ । ଆନ୍ତର୍ଜାତିକ ସ୍ତରରେ ୧୨ noon ଓ ୧୨ midnight ବୋଲି କୁହାଯାଏ ।
- ଆନ୍ତର୍ଜାତିକ ସ୍ତରରେ ପୂର୍ବାହ୍ନ ସମୟକୁ am ସଙ୍କେତଦ୍ୱାରା ସୂଚିତ କରାଯାଏ ଓ ଅପରାହ୍ନ ସମୟକୁ pm ସଙ୍କେତଦ୍ୱାରା ସୂଚିତ କରାଯାଏ । ଯଥା :- ପୂର୍ବାହ୍ନ ୭ଟାକୁ ୭am, ପୂର୍ବାହ୍ନ ୧୧ଟାକୁ ୧୧am, ପୂର୍ବାହ୍ନ ୩ଟା ୩୦କୁ ୩.୩୦ am ଲେଖାଯାଏ । ସେହିପରି ଦିନ ୧୨ଟା ପରଠାରୁ ରାତି ୧୨ଟା ପୂର୍ବ ପର୍ଯ୍ୟନ୍ତ ସମୟ ମଧ୍ୟରୁ କୌଣସି ନିର୍ଦ୍ଦିଷ୍ଟ ସମୟ ଲେଖିଲାବେଳେ ତାହାର ତାହାଣରେ pm ଲେଖାଯାଏ । ଯଥା- ଅପରାହ୍ନ ୨ଟାକୁ ୨ pm ।



ବସ, ରେଳ, ବିମାନ ଚଳାଚଳ, ଡାକ ତାର କାର୍ଯ୍ୟାଳୟ ମାନଙ୍କରେ ବ୍ୟବହୃତ ୨୪ଘଣ୍ଟିଆ ସମୟ ସମ୍ବନ୍ଧରେ ଆମେ ପୂର୍ବ ଶ୍ରେଣୀରେ ଜାଣିଛୁ । ଆସ, ସେଗୁଡ଼ିକୁ ମନେ ପକାଇବା ।

- ମଧ୍ୟରାତ୍ରି ୧୨ଟା ପରଠାରୁ ପରବର୍ତ୍ତୀ ମଧ୍ୟରାତ୍ରି ପର୍ଯ୍ୟନ୍ତ ସମୟକୁ ଗୋଟିଏ ଦିବସ କୁହାଯାଏ ଏବଂ ୨୪ଘଣ୍ଟା ସମୟକୁ ୧,୨,୩.....୨୪ ପର୍ଯ୍ୟନ୍ତ ସଂଖ୍ୟାଦ୍ୱାରା ସୂଚିତ କରାଯାଏ । ଅବଶ୍ୟ ୨୪ ଘଣ୍ଟା ସୂଚାଇଥିବା ସମୟକୁ ୦୦ ଘଣ୍ଟା ମଧ୍ୟ କୁହାଯାଏ । ଘଣ୍ଟା ସୂଚାଇବା ଲାଗି ଦୁଇଟି ଅଙ୍କ ଓ ମିନିଟ୍ ସୂଚାଇବା ଲାଗି ଦୁଇଟି ଅଙ୍କ ବ୍ୟବହାର କରାଯାଏ ।
- ମଧ୍ୟରାତ୍ରି ୧୨ ପରେ ୧୦ମିନିଟ୍ ଅତିବାହିତ ହୋଇଥିଲେ ସମୟକୁ “୦୦.୧୦ଘଣ୍ଟା” ସଂଖ୍ୟା ଦ୍ୱାରା ସୂଚିତ କରାଯାଏ । ମାତ୍ର ଦିନ ୧୨ ପରେ ୧୦ମିନିଟ୍ ଅତିବାହିତ ହୋଇଥିଲେ ସମୟକୁ “୧୨.୧୦ଘଣ୍ଟା” ସଂଖ୍ୟା ଦ୍ୱାରା ସୂଚିତ କରାଯାଏ । ଏଥିରେ am ଓ pm ର ବ୍ୟବହାର କରାଯାଏ ନାହିଁ । ଉଦାହରଣ :- ୨am କୁ ୦୨.୦୦ ଘଣ୍ଟା, ୮.୧୫am କୁ ୦୮.୧୫ ଘଣ୍ଟା, ୧pm କୁ ୧୩.୦୦ ଘଣ୍ଟା, ୯.୧୫pm କୁ ୨୧.୧୫ ଘଣ୍ଟା ଓ ୧୨ ମଧ୍ୟରାତ୍ରିକୁ ୨୪.୦୦ ଘଣ୍ଟା ବା ୦୦.୦୦ ଘଣ୍ଟା ଲେଖାଯାଏ ।

୧. ନିମ୍ନରେ ୧୨ଘଣ୍ଟିଆ ସମୟ ଓ ୨୪ ଘଣ୍ଟିଆ ସମୟ ହିସାବରେ ସାରଣୀ ଦିଆଯାଇଛି । ଆସ, ତାକୁ ପଢ଼ି ଖାଲି ଘରେ ଭର୍ତ୍ତି କରି ଲେଖିବା ।

୧୨ ଘଣ୍ଟିଆ ଦିନର ସମୟ ହିସାବ	୨୪ ଘଣ୍ଟିଆ ଦିନର ସମୟ ହିସାବ
୨am	୦୨.୦୦ ଘଣ୍ଟା
୩.୨୦am	
୧୧.୧୫am	
୧୨ ମଧ୍ୟାହ୍ନ	
୧୨.୩୫ pm	
୧୦.୫୫pm	
୧୨ ମଧ୍ୟ ରାତ୍ରି	





ତଳେ ଦିଆଯାଇଥିବା ୨୪ ଘଣ୍ଟିଆ ଦିନର ବିଭିନ୍ନ ସମୟକୁ ଘଣ୍ଟାର ସମୟରେ ଲେଖ ।

୨୪ ଘଣ୍ଟିଆ ଦିନର ସମୟ	୧୨ ଘଣ୍ଟିଆ ଦିନର ସମୟ (am ଓ pm ବ୍ୟବହାର କରି ଲେଖ)
୧୦.୧୦ ଘଣ୍ଟା	୧୦.୧୦ am
୨୦.୧୫ ଘଣ୍ଟା	
୧୯.୧୭ ଘଣ୍ଟା	
୦୩.୪୫ ଘଣ୍ଟା	
୧୪.୩୦ ଘଣ୍ଟା	
୨୧.୫୦ ଘଣ୍ଟା	
୧୨.୧୦ ଘଣ୍ଟା	
୦୦.୦୦ ଘଣ୍ଟା	

ଆସ, ଏସବୁର ବ୍ୟବହାର ବିଷୟରେ ଜାଣିବା :

ଉଦାହରଣ - ୧

ଧବଳବାବୁ ପ୍ରତ୍ୟେକ ଦିନ ୫.୪୦am ରେ ସକାଳ ଚାଲିବା ଆରମ୍ଭ କରି ୬.୪୫ am ରେ ଶେଷ କରନ୍ତି । ସେ କେତେ ସମୟ ପାଇଁ ପ୍ରତିଦିନ ସକାଳେ ଚାଲନ୍ତି ?



ସମାଧାନ :

ପ୍ରଥମ ପ୍ରଣାଳୀ

୫.୪୦ am ପରେ ଆଉ ୨୦ ମିନିଟ୍ ଅତିବାହିତ ହେଲେ ୬.୦୦ am ହେବ ଏବଂ ୬.୦୦ am ପରେ ଆଉ ୪୫ ମିନିଟ୍ ଅତିବାହିତ ହେଲେ ୬.୪୫am ହେବ ।

ଆରମ୍ଭ ୫.୪୦am $\xrightarrow{୨୦ \text{ ମିନିଟ୍}}$ ୬.୦୦am $\xrightarrow{୪୫ \text{ ମିନିଟ୍}}$ ୬.୪୫am ଶେଷ

ଏଣୁ ୫.୪୦ ପରେ ମୋଟ ୨୦ ମିନିଟ୍ + ୪୫ ମିନିଟ୍ = ୬୫ ମିନିଟ୍

୧ ଘଣ୍ଟା ୦୫ ମିନିଟ୍ ସମୟ ଅତିବାହିତ ହେଲେ ୬.୪୫ am ହେବ ।

ଦ୍ୱିତୀୟ ପ୍ରଣାଳୀ

ଚାଲିବା ଶେଷ ହେବା ସମୟ ୬.୪୫ am

ଚାଲିବା ଆରମ୍ଭ ହେବା ସମୟ (-) ୫.୪୦ am

ଚାଲିବା ସମୟ ଘ. ୧.୦୫ ମିନିଟ୍

∴ ସେ ୧ଘ. ୦୫ ମିନିଟ୍ ସମୟ ପାଇଁ ପ୍ରତିଦିନ ସକାଳେ ଚାଲନ୍ତି ।





ଲକ୍ଷ୍ୟକର, ଦୁଇଟି ପ୍ରଶାଳୀରେ ପ୍ରଶ୍ନଟିର ସମାଧାନ କରାଯାଇଛି ।

- ସେଥିରେ କ'ଣ ଭିନ୍ନତା ଅଛି ?
- ତୁମକୁ କେଉଁ ପ୍ରଶାଳୀଟି ପସନ୍ଦ ଲାଗୁଛି ?

ଉଦାହରଣ : ୨

ତୁମ ବାପା ସମ୍ବଲପୁରରୁ ୬.୩୦am ରେ ବସରେ ଚଢ଼ି ସେହିଦିନ ୪.୪୦pm ରେ କେନ୍ଦୁଝରରେ ପହଞ୍ଚିଲେ । କେନ୍ଦୁଝରରେ ପହଞ୍ଚିବାକୁ ତାଙ୍କୁ କେତେ ସମୟ ଲାଗିଲା ?

ସମାଧାନ :

ପ୍ରଥମ ପ୍ରଶାଳୀ

୬.୩୦ am ପରେ ମଧ୍ୟାହ୍ନ ୧୨ ହେବ, ପୁଣି ମଧ୍ୟାହ୍ନ ପରେ ୪.୪୦pm ହେବ ।

୬.୩୦ am ରୁ ମଧ୍ୟାହ୍ନ ୧୨.୦୦ ଟା ପର୍ଯ୍ୟନ୍ତ ସମୟ ପରିମାଣ =

$$\begin{array}{r} ୧୨ ଘ. ୦୦ ମି. \\ (-) ୬ ଘ. ୩୦ ମି. \quad \text{ବା} \quad (-) ୬ ଘ. ୩୦ ମି. \\ \hline ୫ ଘ. ୩୦ ମି. \end{array}$$

ଘଣ୍ଟା ଘରୁ ୧ ଘଣ୍ଟା ଅଣାଗଲା । ମିନିଟ୍ ଘରେ ୬୦ ମିନିଟ୍ ଲେଖିଗଲା ଏବଂ ଘଣ୍ଟା ଘରେ ୧୧ ଘଣ୍ଟା ରହିଲା

ପୁଣି ମଧ୍ୟାହ୍ନ ୧୨ ଟା ଠାରୁ ୪.୪୦ pm ପର୍ଯ୍ୟନ୍ତ ସମୟ ପରିମାଣ = ୪ ଘ. ୪୦ ମିନିଟ୍.

ଅର୍ଥାତ୍ ମୋଟ ସମୟ ପରିମାଣ = ୫ ଘ. ୩୦ ମି.

$$+ ୪ ଘ. ୪୦ ମି.$$

$$୯ ଘ. ୧୦ ମି. = ୯ ଘ. + ୧ ଘ. ୧୦ ମି. = ୧୦ ଘ. ୧୦ ମିନିଟ୍$$

∴ କେନ୍ଦୁଝରରେ ପହଞ୍ଚିବାକୁ ତାଙ୍କୁ ୧୦ ଘଣ୍ଟା ୧୦ ମିନିଟ୍ ସମୟ ଲାଗିଲା ।

ଦ୍ୱିତୀୟ ପ୍ରଶାଳୀ

କେନ୍ଦୁଝରରେ ପହଞ୍ଚିଲେ = ୪.୪୦pm ବା ୧୨.୪୦ ଘଣ୍ଟା

ସମ୍ବଲପୁରରୁ ବାହାରିଲେ = ୬.୩୦pm ବା ୬.୩୦ ଘଣ୍ଟା

କେନ୍ଦୁଝରରେ ପହଞ୍ଚିବାକୁ ସମୟ = ୧୦.୧୦ ଘଣ୍ଟା

∴ କେନ୍ଦୁଝରରେ ପହଞ୍ଚିବାକୁ ତାଙ୍କୁ ୧୦ ଘ. ୧୦ ମିନିଟ୍ ଲାଗିଲା ।

ଭାବି କହ ?
୨୪ ଘଣ୍ଟିଆ ସମୟ ହିସାବ
ବହୁତ ସୁବିଧା । କାରଣ କହ ?

ଉଦାହରଣ :- ୩

ବିଦ୍ୟାଳୟରେ ୧୦pm ରେ କାର୍ଯ୍ୟ ଆରମ୍ଭ ହୋଇ ୪pm ରେ କାର୍ଯ୍ୟ ଶେଷ ହୁଏ । ଏହା ମଧ୍ୟରେ ୪୦ ମିନିଟ୍ ମଧ୍ୟାହ୍ନ ଭୋଜନ ବିରତି ହୁଏ । ତେବେ ବିଦ୍ୟାଳୟରେ କେତେ ସମୟ ପାଇଁ ପଢ଼ା କାର୍ଯ୍ୟ ହୁଏ ?





ସମାଧାନ :

ପ୍ରଥମ ପ୍ରଶାଳୀ :

ବିଦ୍ୟାଳୟରେ କାର୍ଯ୍ୟ ଆରମ୍ଭ ହୁଏ ୧୦ am ରେ
 ୧୦ am ରୁ ମଧ୍ୟାହ୍ନ ୧୨ ପର୍ଯ୍ୟନ୍ତ ସମୟ ପରିମାଣ = ୨ ଘଣ୍ଟା
 ମଧ୍ୟାହ୍ନ ୧୨ଠାରୁ ୪ pm ସମୟ ପରିମାଣ = ୪ ଘଣ୍ଟା
 ମୋଟ ସ୍କୁଲ ସମୟ ପରିମାଣ = ୨ ଘଣ୍ଟା + ୪ ଘଣ୍ଟା = ୬ ଘଣ୍ଟା
 ମଧ୍ୟାହ୍ନ ଭୋଜନ ବିରତି ୪୦ ମିନିଟ୍
 ପାଠପଢ଼ା ସମୟ ୬ ଘଣ୍ଟା - ୪୦ ମିନିଟ୍ = ୫ ଘଣ୍ଟା ୨୦ ମିନିଟ୍
 ∴ ବିଦ୍ୟାଳୟରେ ୫ ଘଣ୍ଟା ୨୦ ମିନିଟ୍ ପାଇଁ ପଢ଼ାକାର୍ଯ୍ୟ ହୁଏ ।

ଦ୍ୱିତୀୟ ପ୍ରଶାଳୀ :

ବିଦ୍ୟାଳୟ କାର୍ଯ୍ୟ ଶେଷ = ୪ pm ବା ୧୬ ଘଣ୍ଟା
 ବିଦ୍ୟାଳୟ କାର୍ଯ୍ୟ ଆରମ୍ଭ ସମୟ = ୧୦ ବା ୧୦ ଘଣ୍ଟା
 ବିଦ୍ୟାଳୟରେ ଖୋଲା ହେବା ସମୟ = ୬ ଘଣ୍ଟା
 ମଧ୍ୟାହ୍ନ ଭୋଜନ ବିରତି = ୦.୪୦ ମି.
 ପାଠପଢ଼ା ସମୟ = ୫ ଘ. ୨୦ ମି.

ଜାଣି ରଖ- ଘଣ୍ଟାର ସମୟକୁ ଘ. ୨.୩୦ ଭାବେ ଲେଖାଯାଏ, କିନ୍ତୁ କୌଣସି କାମ କରିବାର ଅବଧିକୁ (ସମୟର ପରିମାଣ) ୨ ଘ. ୩୦ମି. ଭାବରେ ଲେଖାଯାଏ ।



- ଦୁଇ ଜଣ ପିଲା ସେମାନଙ୍କର ବାପା, ମା' ସହିତ ନିଜ ନିଜର ଚିତ୍ର ଆଙ୍କିଥିଲେ । କବିରାଜ ବାବୁ ଓ ରମେଶ ବାବୁ ଦୁଇ ଭାଇ । ରମେଶ ବାବୁଙ୍କ ଝିଅର ନାମ ପାପାଲି ଓ କବିରାଜ ବାବୁଙ୍କ ପୁଅର ନାମ ଜିମି ।



ରମେଶ
ଜନ୍ମ ତାରିଖ: ୩୧.୦୧.୧୯୭୮



ନମିତା
ଜନ୍ମ ତାରିଖ: ୩୦.୦୯.୧୯୮୪



ପାପାଲି
ଜନ୍ମ ତାରିଖ: ୧୦.୧୧.୨୦୦୬



କବିରାଜ
ଜନ୍ମ ତାରିଖ: ୧୨.୧୨.୧୯୮୦



ରଶ୍ମିରେଖା
ଜନ୍ମ ତାରିଖ: ୧୫.୦୬.୧୯୮୪



ଜିମି
ଜନ୍ମ ତାରିଖ: ୩୦.୧୧.୨୦୦୬





ଲକ୍ଷ୍ୟକର, ପ୍ରତ୍ୟେକଙ୍କର ଚିତ୍ର ତଳେ ତାଙ୍କର ନାମ ଓ ଜନ୍ମ ତାରିଖ ଲେଖାଯାଇଛି ।



ଚିତ୍ରଗୁଡ଼ିକୁ ଦେଖ ଓ ତଳେ ଦିଆଯାଇଥିବା ପ୍ରଶ୍ନର ଉତ୍ତର ଲେଖ ।

- ପାପାଲି ଓ ଜିମି ମଧ୍ୟରେ କିଏ ବଡ଼ ? _____
- ପାପାଲି ଜିମିର କ'ଣ ହେବ ? _____
- କବିରାଜ ଓ ରମେଶ ମଧ୍ୟରେ ବୟସରେ କିଏ ବଡ଼ ? _____
- ନମିତା ଓ ରମେଶ ମଧ୍ୟରେ କାହାର ବୟସ ଅଧିକ ? _____
- ଜନ୍ମ ତାରିଖ ଦେଖି ୬ ଜଣଙ୍କୁ ନାମକୁ ବଡ଼ରୁ ସାନ କ୍ରମରେ ଲେଖ । _____

ଆସ ହିସାବ କହିବା,

- ନମିତାଙ୍କର ବୟସ ଜିମିର ବୟସଠାରୁ କେତେ ଅଧିକ ?

	ବର୍ଷ	ମାସ	ଦିନ
ଜିମିର ଜନ୍ମତାରିଖ	୩୦.୧୧.୨୦୦୬	୨୦୦୬	୧୧
ନମିତାର ଜନ୍ମତାରିଖ	୩୦.୦୯.୧୯୮୪	୧୯୮୪	୦୯
କେତେ ବଡ଼	୨୨	୦୨	୦୦

∴ ନମିତା, ଜିମିଠାରୁ ୨୨ ବର୍ଷ ୦୨ ମାସ ୦୦ ଦିନ ବଡ଼ ।

- କବିରାଜଙ୍କର ବୟସ ରମେଶଙ୍କ ବୟସଠାରୁ କେତେ କମ ?

	ବର୍ଷ	ମାସ	ଦିନ
କବିରାଜଙ୍କର ଜନ୍ମତାରିଖ	୧୯୮୦	୧୨	୧୨
ରମେଶଙ୍କର ଜନ୍ମତାରିଖ	୧୯୭୮	୦୧	୩୧
	୨	୧୦	୧୧

ଏଠାରେ ୧୨ ଦିନରୁ ୩୧ ଦିନ ବିୟୋଗ କରିବା ସମ୍ଭବ ନୁହେଁ । ତେଣୁ ପାଖ ଘରୁ (ମାସ ଘରୁ) ୧ ମାସ ଧାର ଆଣି ବର୍ତ୍ତମାନ ଦିନ ସଂଖ୍ୟା ହେବ ୧ ମାସ + ୧୨ ଦିନ ବା ୩୦ ଦିନ + ୧୨ ଦିନ = ୪୨ ଦିନ ।

ବର୍ତ୍ତମାନ ୪୨ ଦିନରୁ ୩୧ ଦିନ ବିୟୋଗ ସମ୍ଭବ ।

ମାସ ଘରୁ ୧ ମାସ ଧାର ଯାଇଛି ତେଣୁ ମାସ ଘରେ ରହିଲା ୧୨ - ୧ = ୧୧ ମାସ

ଏହିପରି ଭାବରେ ବିୟୋଗ କରାଯାଏ ।


ଜାଣି ରଖ -

- ମାସ ଘରୁ ଦିନ ଘରକୁ ୧ ମାସ ଧାର ନେଲେ ଦିନ ଘରେ ୩୦ ଦିନ ବଢ଼ିଯାଏ ।
- ବର୍ଷ ଘରୁ ମାସ ଘରକୁ ୧ ବର୍ଷ ଧାର ନେଲେ ମାସ ଘରେ ୧୨ ମାସ ବଢ଼ିଯାଏ ।

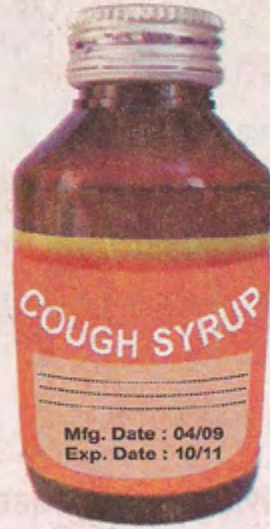




- ତଳେ ଦୁଇଟି ଔଷଧ ବୋତଲର ଚିତ୍ର ଦିଆଯାଇଛି । ଔଷଧ କେବେ ତିଆରି ହେଲା ଓ କେବେ ପର୍ଯ୍ୟନ୍ତ ବ୍ୟବହାର ହୋଇପାରିବ ତାହା ବୋତଲ ଉପରେ ଲେଖାଯାଇଛି । ତାହାକୁ ଲକ୍ଷ୍ୟ କର ।



(ପ୍ରଥମ ବୋତଲ)



(ଦ୍ୱିତୀୟ ବୋତଲ)


ଏବେ କହ, ଜଣେ ଲୋକ ତା. ୩୦.୦୯.୨୦୧୦ରିଖ ଦିନ ଔଷଧ କିଣିବାକୁ ଦୋକାନକୁ ଗଲେ ଓ ଦୋକାନୀ ତାଙ୍କୁ ଦୁଇଟି ଔଷଧ ବୋତଲ ଦେଖାଇଲେ । ସେ କେଉଁଟିକୁ କିଣିବ ?

ପ୍ରତ୍ୟେକ ବୋତଲରେ ଦୁଇଟି ତାରିଖ ଲେଖାଯାଇଛି । ତାହା କ'ଣ ଜାଣିଛ କି ?

Mfg - date ବା Manufacture date
ବା ତିଆରି ତାରିଖ ବା ପ୍ୟାକିଙ୍ଗ୍ ତାରିଖ,
ଏହାର ଅର୍ଥ : ଏହି ତାରିଖରେ ବୋତଲରେ
ଔଷଧ ପ୍ୟାକିଙ୍ଗ୍ କରାଯାଇଛି ।

Exp - date ବା Expiry date ବା
ସମାପ୍ତି ତାରିଖ,
ଏହାର ଅର୍ଥ : ଏହି ତାରିଖ ପରେ ଏହି
ଔଷଧ ଖାଇବା ନିରାପଦ ନୁହେଁ ।

ଏଠାରେ ପ୍ରଥମ ଔଷଧ ବୋତଲରେ Mfg - date 08/08 ବା ଏହା ଅଗଷ୍ଟ ମାସ 2008 ମସିହାରେ ପ୍ୟାକିଙ୍ଗ୍ କରାଯାଇଛି ଓ ବ୍ୟବହାରର ଶେଷ ତାରିଖ 08/10 ବା ଅଗଷ୍ଟ ମାସ 2010 ମସିହା ।



- ଦ୍ୱିତୀୟ ଔଷଧ ବୋତଲ କେବେ ପ୍ୟାକିଙ୍ଗ୍ କରାଯାଇଛି ଓ ଏହାର ବ୍ୟବହାରର ଶେଷ ତାରିଖ କେବେ ?
- ଡିସେମ୍ବର ୨୦ ତାରିଖ, ୨୦୧୦ରେ ଜଣେ ଏହି ଔଷଧ ବୋତଲଟିକୁ କିଣିବ କି ? କାହିଁକି ?

ସବିତା ତା ୧୮.୦୯.୨୦୧୦ ରିଖରେ ଲକ୍ଷ୍ମଣୀ ଆଣିବାକୁ ଦୋକାନକୁ ଗଲା । ଲକ୍ଷ୍ମଣୀ ପ୍ୟାକେଟ୍‌ରେ ଲେଖାଥିଲା:
Mfg date - 15.04.2010,
Best before 6 months from the date of packing
ସବିତା ଲକ୍ଷ୍ମଣୀ ପ୍ୟାକେଟ୍ କିଣିବା ଉଚିତ୍ କି ନାହିଁ ଲେଖ ।



ଜିନିଷ କିଣିଲା ବେଳେ ସେଥିରେ ଲେଖାଥିବା Mfg date ଓ Exp. date ଦେଖି ସ୍ଥିର କରିବା ଉଚିତ୍ ଜିନିଷଟି କିଣିବା ଯୋଗ୍ୟ କି ନୁହେଁ । କୌଣସି ଦ୍ରବ୍ୟ କିଣିବା ପୂର୍ବରୁ ତାହାର ସମାପ୍ତି ତାରିଖ, ଦର ଏବଂ ଓଜନ ଯାଞ୍ଚ କରନ୍ତୁ ।



ଅଭ୍ୟାସ

୧. ଗୋଟିଏ ଚଳଚ୍ଚିତ୍ର ୩.୪୫ pm ରୁ ଆରମ୍ଭ ହୋଇ ୬.୧୫ pm ରେ ଶେଷ ହେଲା । ତେବେ ଚଳଚ୍ଚିତ୍ରଟି କେତେ ସମୟ ପାଇଁ ଚାଲିଲା ?
 ଚଳଚ୍ଚିତ୍ର ଶେଷ ହେବା ସମୟ -
 ଚଳଚ୍ଚିତ୍ର ଆରମ୍ଭ ହେବା ସମୟ -
 ଚଳଚ୍ଚିତ୍ର ଚାଲିବା ସମୟ -
୨. ଗୋଟିଏ କ୍ରିକେଟ ମ୍ୟାଚ୍ ୬ ଘଣ୍ଟା ୩୦ ମିନିଟ୍ ଧରି ଚାଲିଲା । ଯଦି ଏହା ୯.୨୦ am ରେ ଆରମ୍ଭ ହୋଇଥାଏ ତେବେ ଏହା କେତେବେଳେ ଶେଷ ହେବ ?
୩. ଆମ ଗାଁ ଡାକ୍ତରଖାନା ସକାଳେ ୮ am ରୁ ୧୨.୩୦pm ପର୍ଯ୍ୟନ୍ତ ଓ ଉପରବେଳା ୨.୩୦ pm ରୁ ୫.୦୦pm ପର୍ଯ୍ୟନ୍ତ ଖୋଲା ହୁଏ । ତେବେ ଦିନରେ ମୋଟ କେତେ ସମୟ ପାଇଁ ଡାକ୍ତରଖାନା ଖୋଲାହୁଏ ?
୪. ବବିତା ଋଷି ଦିନରେ ଦୂରଦର୍ଶନ ଦେଖିବାର ଆରମ୍ଭ ସମୟ ଓ ଶେଷ ସମୟ ଘଣ୍ଟା ଚିତ୍ରରେ ଦର୍ଶାଯାଇଛି । ତା'କୁ ଦେଖି ସେ କେଉଁଦିନ କେତେ ସମୟ ଦୂରଦର୍ଶନ ଦେଖି ଥିଲେ ତାହା ସାରଣୀରେ ଥିବା 'ଦୂରଦର୍ଶନ ଦେଖିବା ସମୟ' ସ୍ତମ୍ଭରେ ଲେଖା ।

ଆରମ୍ଭ ସମୟ	ଶେଷ ସମୟ	ଦୂରଦର୍ଶନ ଦେଖିବା ସମୟ
ସୋମବାର 		
ମଙ୍ଗଳବାର 		
ବୁଧବାର 		
ଗୁରୁବାର 		



୫. ତଳ ସାରଣୀରେ ଥିବା ଖାଲି ଘର ପୂରଣ କର ।

କାର୍ଯ୍ୟ ଆରମ୍ଭ ସମୟ	କାର୍ଯ୍ୟ କରିବାର ଅବଧି	କାର୍ଯ୍ୟ ଶେଷ କରିବା ସମୟ
୪.୧୫ am	୧ ଘଣ୍ଟା ୩୦ ମିନିଟ୍	
୬.୩୦ pm	୩ ଘଣ୍ଟା ୪୫ ମିନିଟ୍	
	୩ ଘଣ୍ଟା ୨୦ ମିନିଟ୍	
	୨ ଘଣ୍ଟା ୫୦ ମିନିଟ୍	
୯.୦୫ am		୨.୩୫ pm
୧୦.୪୨ pm		୧.୧୭ am
୮.୩୪ am		୧୨.୦୮ pm

୬. ୨୦୧୧ ମସିହାରେ ତୁମ ବିଦ୍ୟାଳୟର ଛୁଟି ତାଲିକା ଦେଖି ଖାଲି ଘରେ ଉତ୍ତର ଲେଖ ।

ଛୁଟିର ନାମ	ଆରମ୍ଭ ତାରିଖ	ଶେଷ ତାରିଖ	ମୋଟ ଦିନ ସଂଖ୍ୟା
ଗ୍ରୀଷ୍ମ ଛୁଟି			
ଦୁର୍ଗାପୂଜା ଛୁଟି			
ବଡ଼ଦିନ (ଧାନକଟା) ଛୁଟି			



ତୁମ ପାଇଁ କାମ

- ତୁମର ଜନ୍ମତାରିଖ କେତେ ? ଏବେ ତୁମର ବୟସ କେତେ ?
- ତୁମ ସାଙ୍ଗମାନଙ୍କର ଜନ୍ମତାରିଖ ବୁଝି ଲେଖ । ତୁମଠାରୁ କିଏ କେତେଦିନ ବଡ଼ ?
- ତୁମ ଘରର ସମସ୍ତ ବ୍ୟକ୍ତିଙ୍କର ଜନ୍ମ ତାରିଖ ଟିପି ରଖ ଓ ତୁମଠାରୁ କିଏ କେତେ ବଡ଼ ବା ସାନ ଲେଖ ।

